


Preisliste




Lineal

40 ct



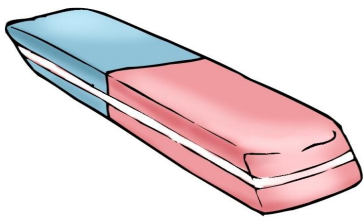
Schreibheft

30 ct



Bleistift

60 ct



Radierer

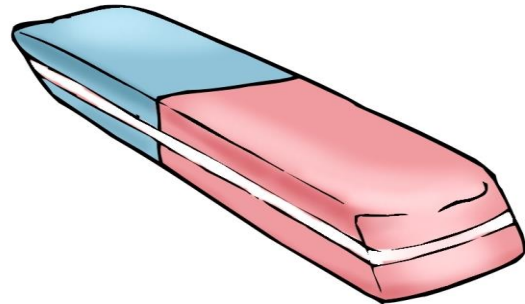
50 ct



Rechenheft

30 ct

Lea kauft:




Lea hat:



1) Wie viel muss Lea bezahlen?

2) Wie viel Geld hat Lea übrig?

Jens kauft:





Jens hat:



1) Wie viel muss Jens bezahlen?

2) Wie viel Geld hat Jens übrig?

Tom kauft:



Tom hat:



1) Wie viel muss Tom bezahlen?

2) Wie viel Geld hat Tom übrig?

Nele kauft:



Nele hat:



1) Wie viel muss Nele bezahlen?

2) Wie viel Geld hat Nele übrig?